


















CHE SOMMA!

SOSTITUISCI A SIMBOLI UGUALI NUMERI UGUALI
IN MODO CHE INSIEME AI NUMERI GIÀ INSERITI,
LA LORO SOMMA DIA IL NUMERO INDICATO
NELL'ULTIMA RIGA.

					9	→
0	9	0	→			0
				5		
		→		8		→
5	5	5	5	5	5	5